

1. Présentation du système

Le système « évolutherm » permet de réguler en température un bassin rempli d'eau.

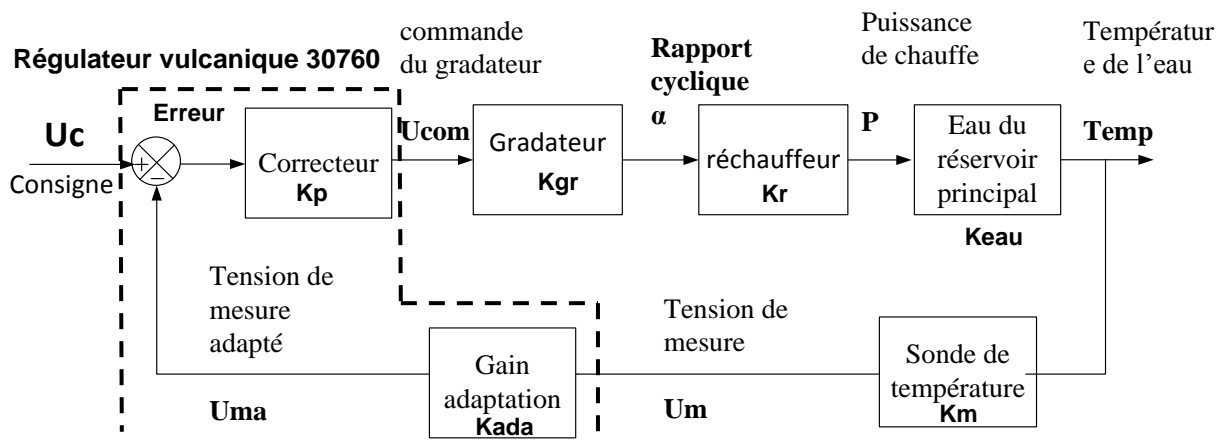
Q1. Sur le schéma hydraulique (page 6) :

- Identifier le réchauffeur,
- Surligner en rouge le circuit d'eau chaude,
- Identifier le capteur qui sera utile pour la régulation de température,
- Justifier l'installation d'une pompe.



2. Présentation des différents éléments :

Le système se modélise sous la forme d'un schéma bloc



Le gradateur : il permet de moduler la puissance du réchauffeur grâce à une commande en train d'onde. Pour U_{com} variant de 0V à 10V, on veut α variant de 0 à 1 (0 à 100%).

Q2. Déterminer K_{gr} le gain du gradateur.

Le réchauffeur : il permet de chauffer l'eau. Pour α variant de 0 à 100%, on veut P variant de 0 à 2000W.

Q3. Déterminer K_r le gain du réchauffeur.

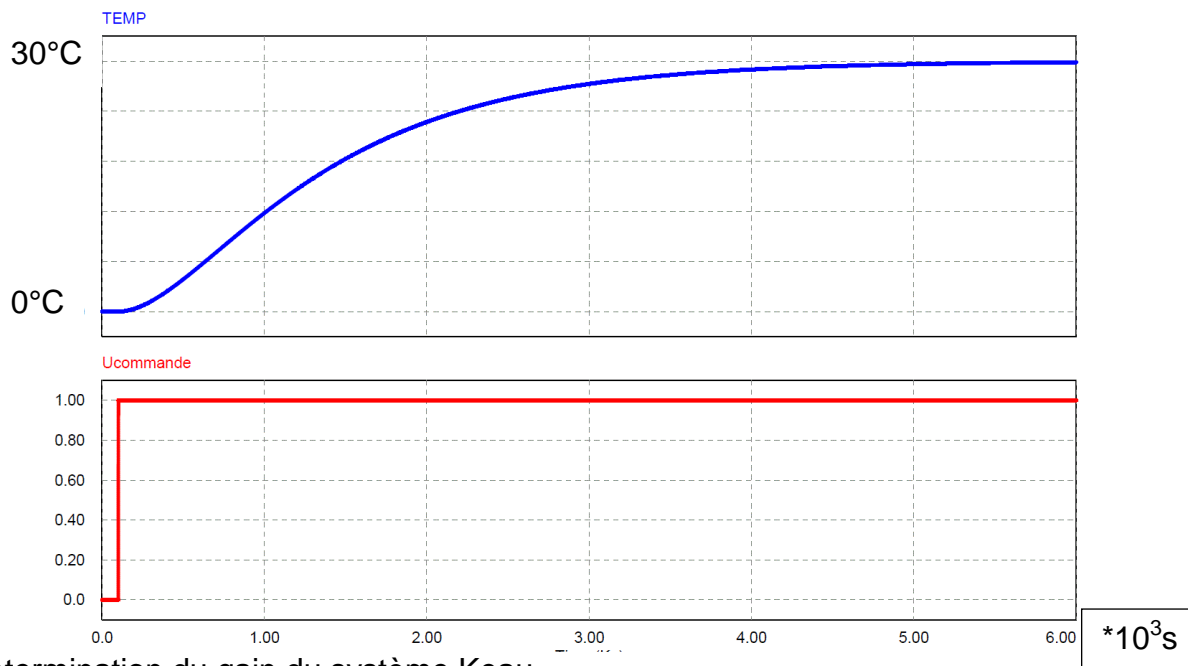
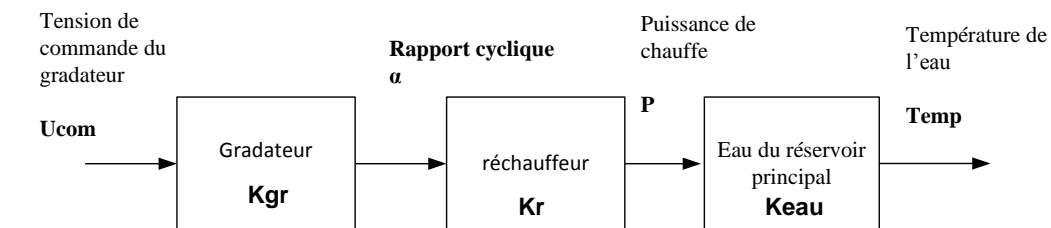
Le capteur de température : il permet de mesurer la température de l'eau. Pour $Temp$ variant de 0°C à 100°C, on veut U_m variant de 0V à 10V.

Q4. Déterminer K_m le gain du capteur de température.

La consigne : Pour U_c variant de 0V à 10V, on veut Temp variant de 0° à 10°C.

Q5. Déterminer K_{da} le gain d'adaptation de la consigne.

On réalise l'essai suivant en boucle ouverte : $U_{com} = 1V$.



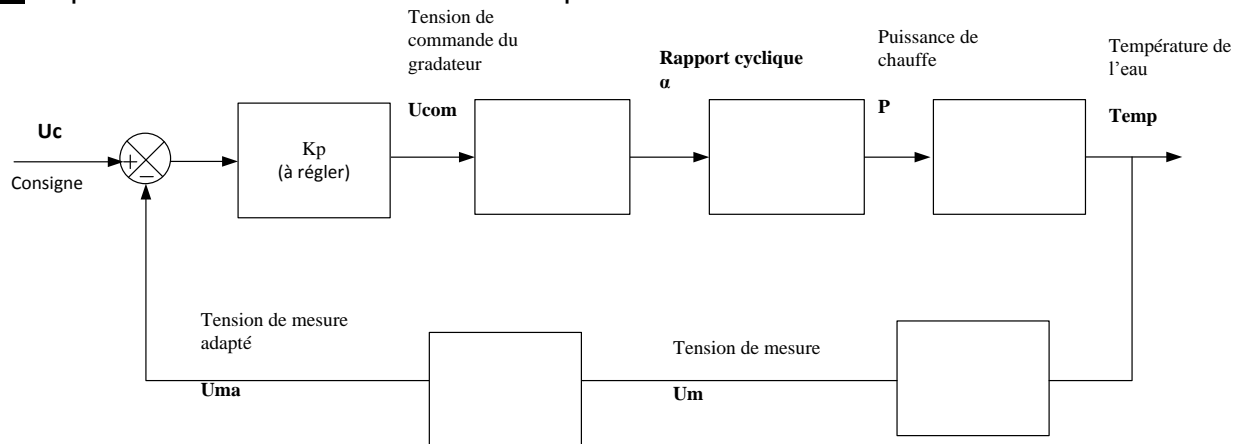
Q6. Détermination du gain du système K_{eau} .

- Déterminer P pour U commande (U_{com}) = 1V
- Déterminer la température finale de l'eau.
- Déterminer le gain statique K_{eau} .

3. Etude du régime statique

On insère dans notre boucle un correcteur proportionnel :

Q7. Reporter ci-dessous la valeur numérique des différents éléments de notre boucle :



Q8. Exprimer l'erreur ε (en régime statique) en fonction de U_c et des gains du montage :

Q9. Déterminer l'erreur statique si $K_p=1$ et que la consigne est égale à 50°C .

Cahier des charges : Pour une consigne de température de 70°C , l'erreur ne doit pas dépasser $\pm 1^\circ\text{C}$, le dépassement ne doit pas dépasser 5% de la température de consigne.

Q10. Déterminer le gain K_p permettant de remplir le cahier des charges (ne pas dépasser 1°C).

SIMULATION SOUS MATLAB DU MODEL STATIQUE:

Q11. Ouvrir le fichier matlab « Model_statique_EV.mdl », paramétrer la tension de consigne et le gain K_p du modèle statique. Vérifier la cohérence du modèle statique et valider le cahier des charges.

4. Etude du régime dynamique

SIMULATION SOUS MATLAB DU MODEL DYNAMIQUE:

Q12. Ouvrir le fichier matlab «Model_dynamique_EV.mdl». Pour le même cahier des charges que précédemment, configurer votre correcteur K_p , et régler votre consigne. Simuler et interpréter le résultat.

Sur le **système réel**, la sortie du gradateur fait varier la tension de 0 à 100%, ce qui correspond à une variation de puissance de chauffe en sortie du réchauffeur de 0W à 2000W.

Q13. Visualiser à l'aide du scope la puissance en sortie du réchauffeur du modèle. Expliquer pourquoi la réponse obtenue en dynamique est incohérente (Valeur max, valeur min, une puissance peut elle être négative ?).

Afin d'améliorer votre modèle, et de limiter la puissance en sortie du réchauffeur, insérer



un bloc saturation



Saturation

entre le gradateur et le réchauffeur.

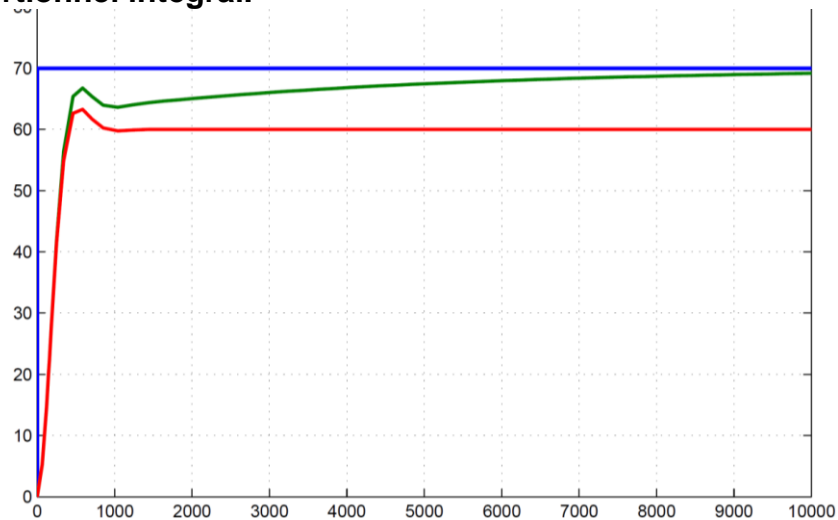
Q14. Paramétrer le bloc saturation (Upper Limit : Limite haute et Lower Limit : Limite basse) afin de rendre ce modèle dynamique cohérent. Visualiser de nouveau la sortie du réchauffeur et commenter la courbe obtenue. Expliquer pourquoi la sortie Temp du modèle est plus lente.

Dans notre modèle, nous avons seulement inséré un correcteur proportionnel.

Q15. Ce seul correcteur, suffit-il à respecter notre cahier des charges ?, justifier votre réponse. Proposer une solution (**le dépassement ne doit pas dépasser 5% de la consigne.**)

5. Etude du régime dynamique avec un correcteur PI (Proportionnel Intégral)

Réponse à un échelon de consigne avec un correcteur proportionnel et avec un correcteur proportionnel intégral.



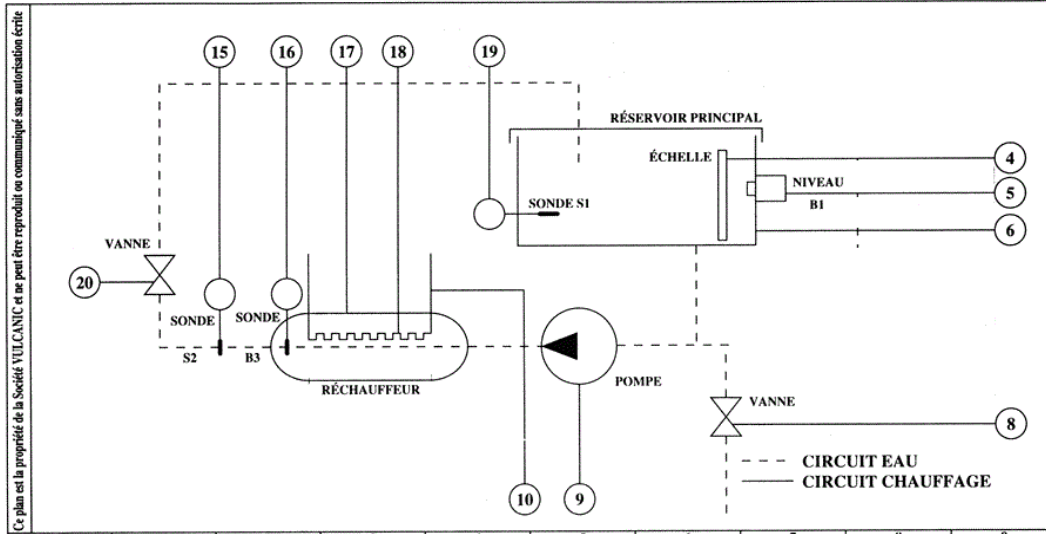
Q16. Identifier quelle est la réponse du correcteur proportionnel.

Q17. Identifier quelle est la réponse du correcteur proportionnel intégral.

Q18. Le paramètre de l'intégration a été réglé de manière à ce que l'intégration soit très lente. Identifier sur la courbe la partie de la réponse de la température de l'eau qui est dûe au phénomène d'intégration.

Q19. Ouvrir le fichier matlab «Model_dynamiquePI_EV.mdl » et proposer un réglage des paramètres P et I du correcteur PI, permettant de valider le cahier des charges et d'avoir le meilleur temps de réponse.

SCHEMA HYDRAULIQUE



Id	DATE	Des	DESIGNATION	Id	DATE	Des	DESIGNATION	ARMOIRE DE CONTRÔLE ET DE RÉGULATION		VULCANIC	
A				H							
B				I							
C				J							
D				K							
E				L							
FICHER SAMI 4615910L								DESSINÉ : SAMI	VÉRIFIÉ :	INDICE	FOLIO
								DATE : 22/07/91	DATE :	A	01

SCHEMAS ELECTRIQUES DE PUISSANCE

SCHEMAS ELECTRIQUES DE COMMANDE

